

1	2	3	4	Total

Nome: _____ Cartão: _____

Regras a observar:

- Seja sucinto porém completo.
- Justifique todo procedimento usado.
- Use notação matemática consistente.
- Trabalhe individualmente e sem uso de material de consulta além do fornecido.
- Devolva o caderno de questões preenchido ao final da prova.
- Não é permitido destacar folhas nem usar folhas adicionais.
- É permitido o uso de calculadoras científicas simples, ou seja, sem recursos gráficos, de armazenamento de textos ou manipulação simbólica de expressões.

Formulário:

1. $\cosh(x) = \frac{e^x + e^{-x}}{2}$

2. $\sinh(x) = \frac{e^x - e^{-x}}{2}$

3. $\cos(t) = \frac{e^{it} + e^{-it}}{2}$

4. $\sen(t) = \frac{e^{it} - e^{-it}}{2i}$

5. $\cos(2t) = \cos^2(t) - \sen^2(t)$

6. $\sen(2t) = 2 \sen(t) \cos(t)$

7. $(a + b)^n = \sum_{j=0}^n \binom{n}{j} a^{n-j} b^j, \binom{n}{j} = \frac{n!}{(n-j)!j!}$

- **Questão 1** (3.0 pontos): Considere o circuito RLC representado na figura abaixo:

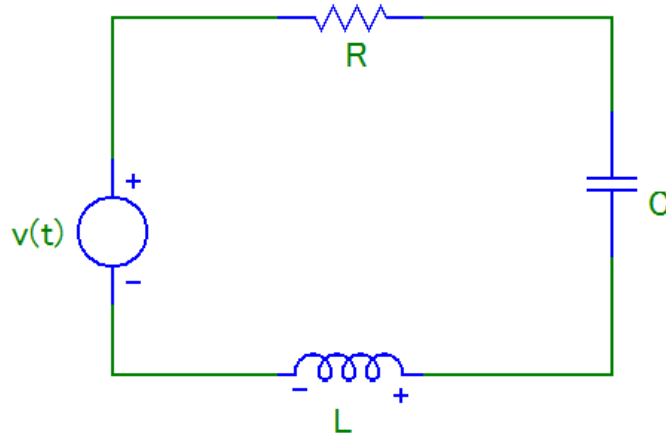


Figura 1: Circuito RLC

onde $R = 1\Omega$, $L = \frac{1}{2}H$ e $C = 2F$, a carga inicial no capacitor e a corrente inicial na malha são nulas. Use a teoria das transformadas de Laplace para calcular a corrente $i(t)$ quando a tensão $v(t)$ na fonte é dada por

$$v(t) = \begin{cases} 5, & 0 \leq t < 2, \\ 10, & t > 2. \end{cases}$$

Esboce o gráfico corrente $i(t)$ como função tempo. Lembre que este circuito é governado pela seguinte equação:

$$L \frac{di(t)}{dt} + Ri(t) + \frac{1}{C} \left(q(0) + \int_0^t i(\tau) d\tau \right) = v(t).$$

Solução

$$v(t) = 5u(t) + 5u(t - 2)$$

$$\left(Ls + R + \frac{1}{Cs} \right) I(s) = V(s)$$

$$(LCs^2 + RCs + 1) I(s) = CsV(s)$$

$$I(s) = \frac{Cs}{LCs^2 + RCs + 1} V(s)$$

$$I(s) = \frac{10s}{s^2 + 2s + 1} \left(\frac{1}{s} + \frac{e^{-2s}}{s} \right)$$

$$I(s) = \frac{10}{(s + 1)^2} (1 + e^{-2s})$$

Sabemos que

$$\mathcal{L} \left\{ \frac{1}{(s + 1)^2} \right\} = te^{-t}$$

por tab(8). Da propriedade do deslocamento em t , temos também

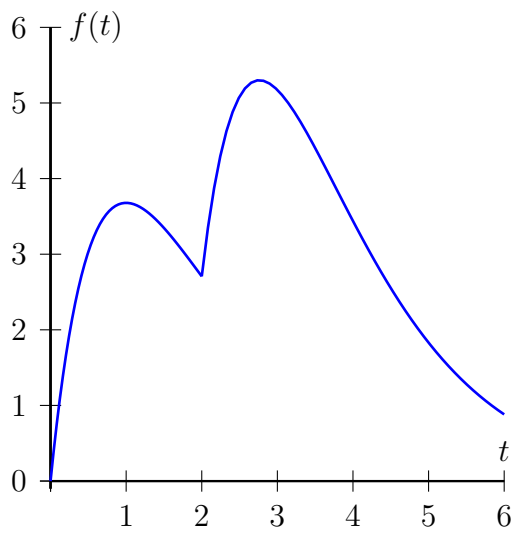
$$\mathcal{L} \left\{ \frac{e^{-2s}}{(s + 1)^2} \right\} = (t - 2)e^{-(t-2)}u(t - 2)$$

Portanto

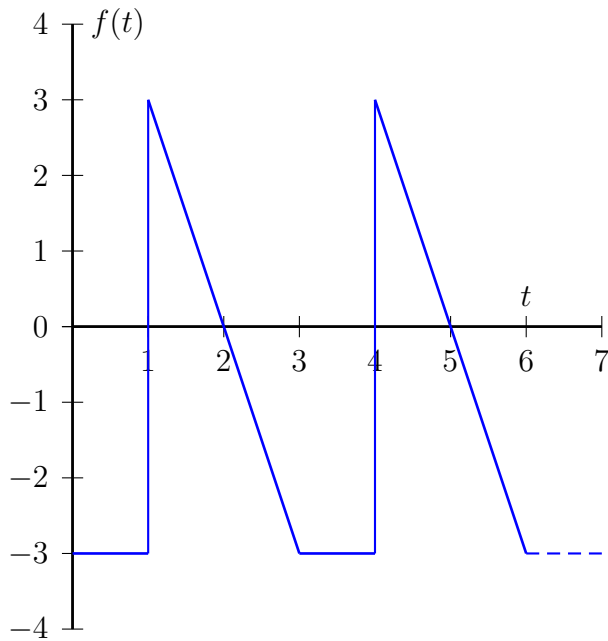
$$i(t) = 10te^{-t} + 10(t - 2)e^{-(t-2)}u(t - 2)$$

ou seja

$$i(t) = \begin{cases} 10te^{-t}, & 0 \leq t < 2 \\ 10te^{-t} + 10(t-2)e^{-(t-2)} = 10(t + (t-2)e^2)e^{-t}, & t > 2 \end{cases}$$



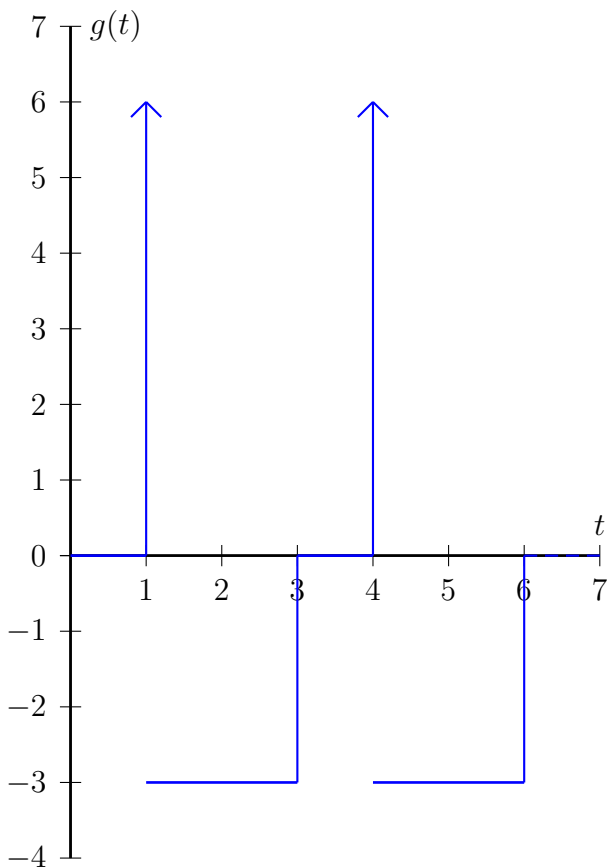
• **Questão 2** (2.0 pontos): Considere a função periódica $f(t)$ de período 3 cujo gráfico é apresentado



abaixo.

- (0.5) Esboce o gráfico da derivada distribucional $g(t) = f'(t)$.
- (1.5) Obtenha a transformada de Laplace $G(s)$ de $g(t)$ e $F(s)$ de $f(t)$.

Solução item a



Solução item b Da propriedade da função periódica, temos:

$$\begin{aligned}
G(s) &= \frac{1}{1 - e^{-3s}} \int_0^3 g(t) dt = \frac{1}{1 - e^{-3s}} \left[6e^{-s} - 3 \int_1^3 e^{-st} dt \right] \\
&= \frac{1}{1 - e^{-3s}} \int_0^3 g(t) dt = \frac{1}{1 - e^{-3s}} \left[6e^{-s} - 3 \left(\frac{e^{-3s}}{-s} - \frac{e^{-s}}{-s} \right) \right] \\
&= \frac{1}{1 - e^{-3s}} \left[6e^{-s} - 3 \frac{e^{-s}}{s} + 3 \frac{e^{-3s}}{s} \right]
\end{aligned}$$

Da propriedade da derivada temos:

$$\mathcal{L}\{f'(t)\} = sF(s) - f(0)$$

como $f(0) = -3$, temos:

$$F(s) = \frac{G(s)}{s} - \frac{3}{s} = \frac{1}{1 - e^{-3s}} \left[\frac{6e^{-s}}{s} - 3 \frac{e^{-s}}{s^2} + 3 \frac{e^{-3s}}{s^2} \right] - \frac{3}{s}$$

• **Questão 3** (2.0 pontos): Calcule as seguintes transformadas:

a) (0.5) $\mathcal{L} \left\{ e^{-t/2} t^2 \sum_{k=0}^3 \delta(t - 2k) \right\}$

b) (0.75) $\mathcal{L} \{ t^2 J_0(3t) \}$

c) (0.75) $\mathcal{L} \{ \text{sen}^3(wt) \}$

Solução item a

$$\begin{aligned} f(t) &= e^{-t/2} t^2 \sum_{k=0}^3 \delta(t - 2k) \\ &= \sum_{k=0}^3 e^{-t/2} t^2 \delta(t - 2k) = 0\delta(t) + 2^2 e^{-1} \delta(t - 2) + e^{-2} 4^2 \delta(t - 4) + e^{-3} 6^2 \delta(t - 6) \\ &= 4e^{-1} \delta(t - 2) + 16e^{-2} \delta(t - 4) + 36e^{-3} \delta(t - 6) \\ \mathcal{L} \{ f(t) \} &= 4e^{-1} e^{-2s} + 16e^{-2} e^{-4s} + 36e^{-3} e^{-6s} \end{aligned}$$

Solução item b

$$\begin{aligned} \mathcal{L} \{ t^2 J_0(3t) \} &= \frac{d^2}{ds^2} \mathcal{L} \{ J_0(3t) \} = \frac{d^2}{ds^2} \left(\frac{1}{\sqrt{s^2 + 9}} \right) = \frac{d^2}{ds^2} (s^2 + 9)^{-1/2} = -\frac{d}{ds} \left[(s^2 + 9)^{-3/2} s \right] \\ &= - \left[-3 (s^2 + 9)^{-5/2} s^2 + (s^2 + 9)^{-3/2} \right] = \frac{3s^2 - (s^2 + 9)}{(s^2 + 9)^{5/2}} = \frac{2s^2 - 9}{(s^2 + 9)^{5/2}} \end{aligned}$$

Solução item c

$$f(t) = \text{sen}^3(wt) = \left(\frac{e^{iwt} - e^{-iwt}}{2i} \right)^3 = \frac{e^{3iwt} - 3e^{iwt} + 3e^{-iwt} - e^{-3iwt}}{-8i} = \frac{3 \text{sen}(wt) - \text{sen}(3wt)}{4}$$

$$\mathcal{L} \{ f(t) \} = \frac{3}{4} \frac{w}{s^2 + w^2} - \frac{1}{4} \frac{3w}{s^2 + w^2}$$

- **Questão 4** (3.0 pontos): Resolva a seguinte equação íntegro-diferencial de Volterra:

$$y'(t) + y(t) - 3e^t \int_0^t y(\tau)e^{-\tau} d\tau = 2e^{-3t}$$

Usando a técnica das transformadas de Laplace sabendo que $y(0) = 2$.

Solução:

$$y'(t) + y(t) - 3y(t) * e^t = 2e^{-3t}$$

$$sY(s) - 2 + Y(s) - \frac{3}{s-1}Y(s) = \frac{2}{s+3}$$

$$Y(s) \left[s + 1 - \frac{3}{s-1} \right] = \frac{2}{s+3} + 2$$

$$Y(s) \left[\frac{(s+1)(s-1) - 3}{s-1} \right] = 2 \frac{s+4}{s+3}$$

$$Y(s) \left[\frac{s^2 - 4}{s-1} \right] = 2 \frac{s+4}{s+3}$$

$$Y(s) = 2 \frac{(s-1)(s+4)}{(s+3)(s^2-4)}$$

$$Y(s) = 2 \frac{s^2 + 3s - 4}{(s+3)(s-2)(s+2)}$$

$$Y(s) = 2 \frac{A}{s+3} + \frac{B}{s-2} + \frac{C}{s+2}$$

onde

$$A = \lim_{s \rightarrow -3} \frac{s^2 + 3s - 4}{(s-2)(s+2)} = \frac{9 - 9 - 4}{(-5)(-1)} = -\frac{4}{5}$$

$$B = \lim_{s \rightarrow 2} \frac{s^2 + 3s - 4}{(s+3)(s+2)} = \frac{4 + 6 - 4}{(5)(4)} = \frac{3}{10}$$

$$C = \lim_{s \rightarrow -2} \frac{s^2 + 3s - 4}{(s+3)(s-2)} = \frac{4 - 6 - 4}{(1)(-4)} = \frac{3}{2}$$

$$y(t) = -\frac{8}{5}e^{-3t} + \frac{3}{5}e^{2t} + 3e^{-2t}$$